


Qui suis-je ?

- Je suis un légume.
- Je suis une racine que l'on consomme.
- Je suis de forme allongée.
- On me mange râpée, avec des petits pois et même en gâteau.
- Les lapins m'adorent.



Une carotte

Qui suis-je ?

- Je suis un fruit.
- Je pousse dans les pays chauds.
- J'ai une forme allongée.
- Ma peau s'épluche facilement.
- Les singes me mangent aussi.



La banane

Qui suis-je ?

- Je vis dans la savane africaine.
- Je vis en troupeau.
- Je suis la proie des fauves.
- Je suis le cousin du cheval.
- Mon pelage est blanc et noir.



Un zèbre

Qui suis-je ?

- J'ai 6 pattes.
- Je vole.
- Je mange des pucerons.
- J'aime les jardins et les champs.
- Je suis rouge avec des points noirs.



Une coccinelle

Qui suis-je ?

- Je suis utilisée pour cuisiner des gâteaux.
- Je suis blanche.
- Je suis en poudre




La Farine

Qui suis-je ?



- Je suis un dessert du mois de Janvier.
- Je suis dans le panier du Petit Chaperon Rouge.
- Je suis servie avec une couronne.
- Je cache une fève.



La galette



Combien l'oiseau rouge doit-il prendre encore de grains de blé pour en avoir autant que l'oiseau bleu ?



L'oiseau rouge doit prendre encore **3** grains de blé

3





Combien l'oiseau rouge doit-il
prendre encore de grains de
blé pour en avoir autant que
l'oiseau bleu ?




L'oiseau rouge doit
prendre encore **1** grain
de blé

1







Combien l'oiseau rouge doit-il prendre encore de grains de blé pour en avoir autant que l'oiseau bleu ?





L'oiseau rouge doit prendre encore **2** grains de blé

2







Combien l'oiseau rouge doit-il prendre encore de grains de blé pour en avoir autant que l'oiseau bleu ?





L'oiseau rouge doit prendre encore **1** grain de blé

1






Combien l'oiseau rouge doit-il prendre encore de grains de blé pour en avoir autant que l'oiseau bleu ?




L'oiseau rouge doit prendre encore **2** grains de blé

2





Combien l'oiseau rouge doit-il prendre encore de grains de blé pour en avoir autant que l'oiseau bleu ?




L'oiseau rouge doit prendre encore **3** grains de blé





La princesse a trouvé 3 chocolats.
Elle en mange 1.
Combien lui en reste-t-il ?




Il lui reste **2** chocolats





La princesse a trouvé 4 chocolats.
Elle en mange 2.
Combien lui en reste-t-il ?



Il lui reste **2** chocolats






La princesse a trouvé 5 chocolats.
Elle en mange 2.
Combien lui en reste-t-il ?



Il lui reste **3** chocolats






La princesse a trouvé 4 chocolats.
Elle en mange 3.
Combien lui en reste-t-il ?



Il lui reste **1** chocolats





La princesse a trouvé 6 chocolats.
Elle en mange 3.
Combien lui en reste-t-il ?



Il lui reste **3** chocolats





La princesse a trouvé 6 chocolats.
Elle en mange 4.
Combien lui en reste-t-il ?





Il lui reste **2** chocolats





Combien les enfants doivent-ils prendre de billes pour que chacun en ait autant que les autres ?




Ils doivent prendre **2** billes.



Combien les enfants doivent-ils prendre de billes pour que chacun en ait autant que les autres ?




Ils doivent prendre **1** bille.



Combien les enfants doivent-ils prendre de billes pour que chacun en ait autant que les autres ?



Ils doivent prendre **2** billes.



Combien les enfants doivent-ils prendre de billes pour que chacun en ait autant que les autres ?



Ils doivent prendre **3** billes.



3



?



Dans cet arbre, il y a 4 oiseaux,
des violets et des bleus. Il y a 3
oiseaux violets.
Combien y a-t-il d'oiseaux bleus?



Il y a 1 oiseau bleu.




2



?

Dans cet arbre, il y a 4 oiseaux,
des violets et des bleus. Il y a 2
oiseaux violets.
Combien y a-t-il d'oiseaux bleus?



Il y a 2 oiseaux bleus.




1



?

Dans cet arbre, il y a 4 oiseaux,
des violets et des bleus.
Il y a 1 oiseau violet.
Combien y a-t-il d'oiseaux bleus?



Il y a 3 oiseaux bleus.




1



?



Dans cet arbre, il y a 3 oiseaux,
des violets et des bleus.
Il y a 1 oiseau violet.
Combien y a-t-il d'oiseaux bleus?



Il y a 2 oiseaux bleus.



2



?



Dans cet arbre, il y a 3 oiseaux,
des violets et des bleus.
Il y a 2 oiseaux violets.
Combien y a-t-il d'oiseaux bleus?



Il y a 1 oiseau bleu.




1



?

Dans cet arbre, il y a 5 oiseaux,
des violets et des bleus.
Il y a 1 oiseau violet.
Combien y a-t-il d'oiseaux bleus?



Il y a 4 oiseaux bleus.




2



?



Dans cet arbre, il y a 5 oiseaux,
des violets et des bleus.
Il y a 2 oiseaux violets.
Combien y a-t-il d'oiseaux bleus?




Il y a 3 oiseaux bleus.



3



?



Dans cet arbre, il y a 5 oiseaux,
des violets et des bleus.
Il y a 3 oiseaux violets.
Combien y a-t-il d'oiseaux bleus?

Il y a 2 oiseaux bleus.



4



?

Dans cet arbre, il y a 5 oiseaux,
des violets et des bleus.
Il y a 4 oiseaux violets.
Combien y a-t-il d'oiseaux bleus?



Il y a **1** oiseau bleu.