

Recherches : le panneau d'information

Comment s'appelle l'endroit où vous vous trouvez ?

A quelle altitude êtes-vous maintenant ?

.....

En observant bien la carte du panneau d'information, vous devez être capable de répondre aux questions suivantes :

1. Il porte le nom d'une princesse : qui est-il ?
2. A quelle altitude se trouve la tour du Champ du Feu ?
3. Quelle est l'altitude la plus élevée indiquée sur cette carte ?
4. Trouvez 4 noms de cours d'eau.

| | |
|----|----|
| | |
| | |
| | |
| | |
| | |
| | |
| | |
| | |
| | |
| | |
| | |
| 1. | 2. |
| 3. | 4. |
| | |

Observations / Questions

Rédacteurs de la fiche :

Observations :

Regardez cette photo : observez bien l'endroit avant de répondre aux différentes questions !



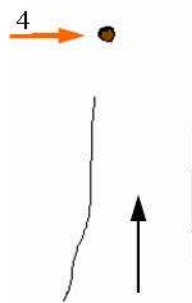
Comment s'appelle cet endroit ? (Utilisez un terme de géographie)

A l'aide des indications disponibles donnez le nom du lieu :

Comment appelle-t-on les deux pierres taillées qui sont visibles sur cette photo ?

Difficile ! En regardant la photo, et en vous servant de votre boussole pouvez-vous dire à quel moment de la journée cette photo a été prise ?

Le schéma du lieu est incomplet... Ajoutez les éléments qui manquent, et notamment les points 1, 2 et 3 précisés sur la photo ci-dessus... Essayez aussi d'indiquer la position de quelques arbres et du rocher qui se trouve au centre de la photo.



Rédacteurs de la fiche :

Contrôle :

Observation et repérage : voir page précédente pour retrouver les différents éléments !

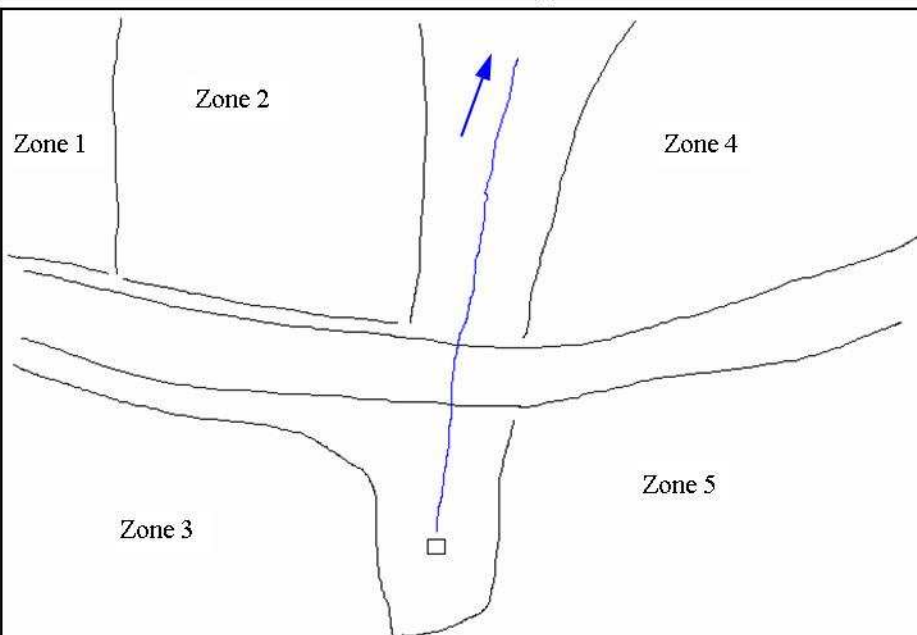
L'élément N°1 :

Dessinez-le rapidement et relevez les indications qui y figurent.

L'arbre N°3 :

Mesurez sa circonférence à 1 mètre du sol.
De quelle variété s'agit-il ? Justifiez votre réponse.

Recherchez l'arbre qui porte le balisage du sentier GR5.
Mesurez sa circonférence à 1 m du sol et donnez son nom.



Des zones de forêt aux caractéristiques différentes...
Essayez de compléter le schéma en notant pour chaque zone, l'espèce dominante d'arbre, et l'âge de la forêt (**jeune ou**


Zone 1 :

Zone 2 :

Zone 3 :


Zone 4 :

Zone 5 :

Dépassez la source d'une dizaine de mètres et placez-vous dos à l'arbre sur lequel est peint le balisage du sentier :  Travail avec la boussole...

En vous plaçant de manière à voir ce paysage, donnez l'azimut du sommet le plus haut.

Dans le cadre blanc, tracez les lignes de crêtes qui sont cachées, ainsi que les trois troncs des arbres qui ont été coupés par le rectangle blanc.



Rédacteurs de la fiche :

Observations :

Observation du milieu forestier autour de la source...

Voici trois photos de troncs d'arbres... Vous devez essayer de **retrouver les arbres**, de **donner le nom de leur espèce** et de les **situer sur le plan de la fiche 2** en inscrivant leur code (A1, A2 et A3). Ces arbres bordent l'espace sur lequel vous vous trouvez.

**ARBRE A1**

Variété :

**ARBRE A2**

Variété :

**ARBRE A3**

Variété :

Observations / Questions

Rédacteurs de la fiche :

Observations :